




ТЕХНОЛОГИЧЕСКАЯ КАРТА ДИСТАНЦИОННОГО УРОКА

Класс	6
Предмет	математика
Тема урока	Сравнение рациональных чисел. Модуль числа.
Тип урока (изучение новой темы, контроль, повторение и т.д.)	Изучение новой темы
Организационные элементы урока	<p style="text-align: center;">Повторение пройденного:</p> <p>1. Выполнить карточку контроля в тетрадке <i>Образец 1.Б</i></p> <p style="text-align: center;">Карточка контроля</p> <p>1. Какое число не является натуральным? А.3 Б. – 8 В. 100 Г. 4</p> <p>2. Наименьшее натуральное число: А. 0 Б. 1 В. -1 Г. 10</p> <p>3. Какое число не является рациональным? А.– 5 Б. 0,8 В. 4 Г. все рациональные</p> <p>4. Найти координату точки А:</p>  <p>А. – 1 Б. – 2 В. – 3 Г. – 4</p> <p>5. Найти координату точки В:</p>  <p style="text-align: center;">Знакомство с новым материалом:</p> <p>2. Учебник стр.233 п.11.2</p> <p>3. Вспомнить: как сравниваются положительные числа, целые числа.</p> <p>4. Прочитать правило на стр.233, выполнить письменно на стр.234 задание под первым </p> <p>5. Учебный фильм посмотреть</p> <p>https://www.youtube.com/watch?v=RW_hkcG30wQ</p> <p>6. Записать в тетрадь, что называется <i>модулем</i> числа.</p> <p>7. Выполнить №885</p>
Домашнее задание	Выучить правила из п.11.2, № 889
Способ обратной связи при проверке	Прикрепленное фото с выполненной карточкой

домашнего задания (АИС «Сетевой город», электронная почта, мессенджеры(ватсапwhatsapp, вайберviber)	контроля и д/з в АИС «Сетевой город» или по электронной почте natalia.leiman@yandex.ru
Сроки исполнения	Домашнее задание должно быть выполнено к следующему уроку.